







Füllt die Tabelle aus!

- ❖ Was fällt euch auf?
- ❖ Verwendet Forschermittel!

Wie viele Quadrate sind in einem ...	1 · 1 Quadrate	2 · 2 Quadrate	3 · 3 Quadrate	4 · 4 Quadrate	5 · 5 Quadrate	6 · 6 Quadrate	...	Quadrate insgesamt
1 · 1 Quadrat □								
2 · 2 Quadrat ⊕								
3 · 3 Quadrat ⊞								
4 · 4 Quadrat ⊠								
5 · 5 Quadrat ⊡								
6 · 6 Quadrat ⊣								

